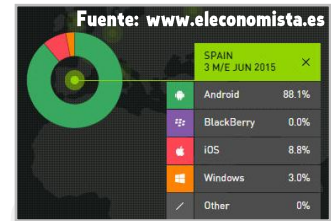


# Estadística

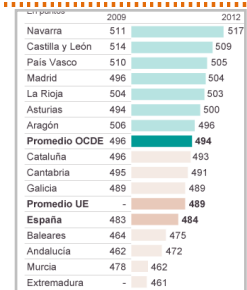
## 1 SISTEMAS OPERATIVOS DE DISPOSITIVOS MÓVILES (España, 2015)

- ¿Qué pasos crees que se han seguido para obtener los valores de la tabla?
- ¿Cómo se ven mejor los resultados, en una tabla o en un gráfico?



## 2 INFORME PISA SOBRE LA COMPETENCIA MATEMÁTICA (España, 2009 y 2012)

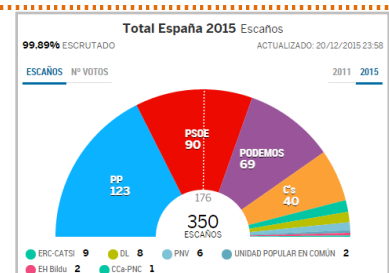
- ¿Qué conclusiones a simple vista nos aporta el gráfico?
- ¿Cómo mejorarías el gráfico para que la comparativa entre los años 2009 y 2012 fuera más clara?
- ¿De qué nos informa el promedio UE y el promedio España? ¿Cómo crees que se calculan?
- ¿Qué pasos crees que se han seguido para obtener los valores de las comunidades autónomas?



Fuente: www.elpais.com (2012)

## 3 ELECCIONES GENERALES (España, 2015)

- En cuanto al número de encuestados, ¿qué diferencia hay respecto a los anteriores casos?
- ¿Qué relación guarda el gráfico respecto a la forma del Congreso de los Diputados?
- ¿Qué pasos se han seguido para obtener los valores del gráfico (escaños)?



Fuente: www.grancanariatv.com