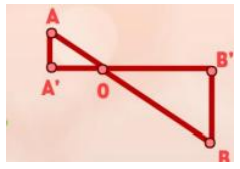
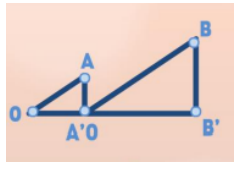


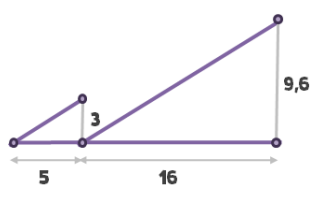
Teorema de Tales (ampliación)

Ficha 1. Triángulos en posición de Tales

1.1 ** ¿Cuántas igualdades eres capaz de escribir en cada caso?

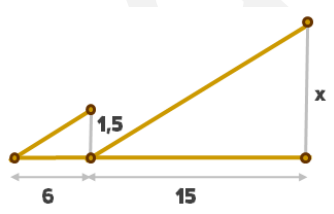


1.2 ** ¿Se cumple el teorema de Tales?

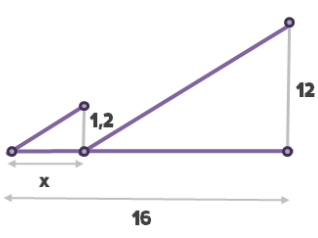


Ficha 2. Triángulos adyacentes

2.1 ** Calcula la parte desconocida "x":

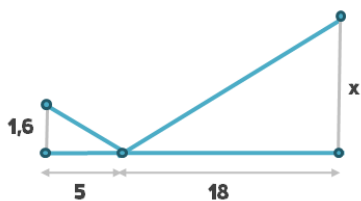


2.2 *** Calcula la parte desconocida "x":

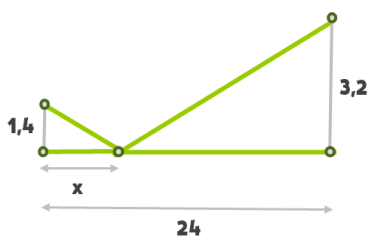


Ficha 3. Triángulos opuestos

3.1 ** Calcula la parte desconocida "x":

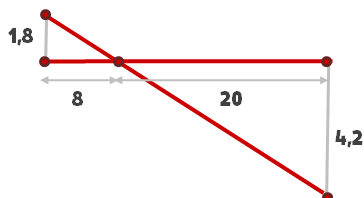


3.2 *** Calcula la parte desconocida "x":



Ficha 4. Triángulos opuestos-inversos

4.1 ** ¿Se cumple el teorema de Tales?



4.2 *** Calcula la parte desconocida:

